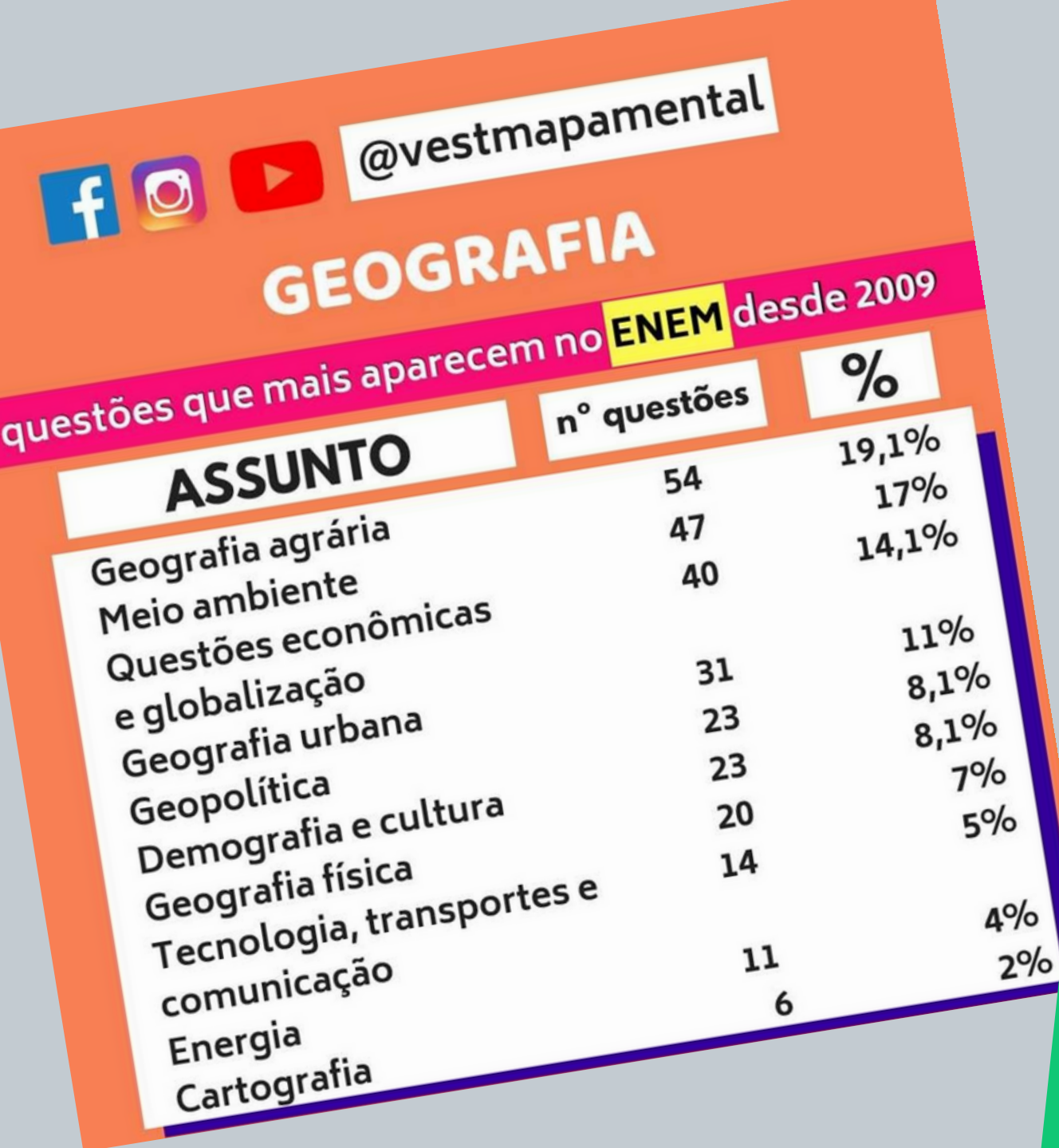


Geografia e Enem

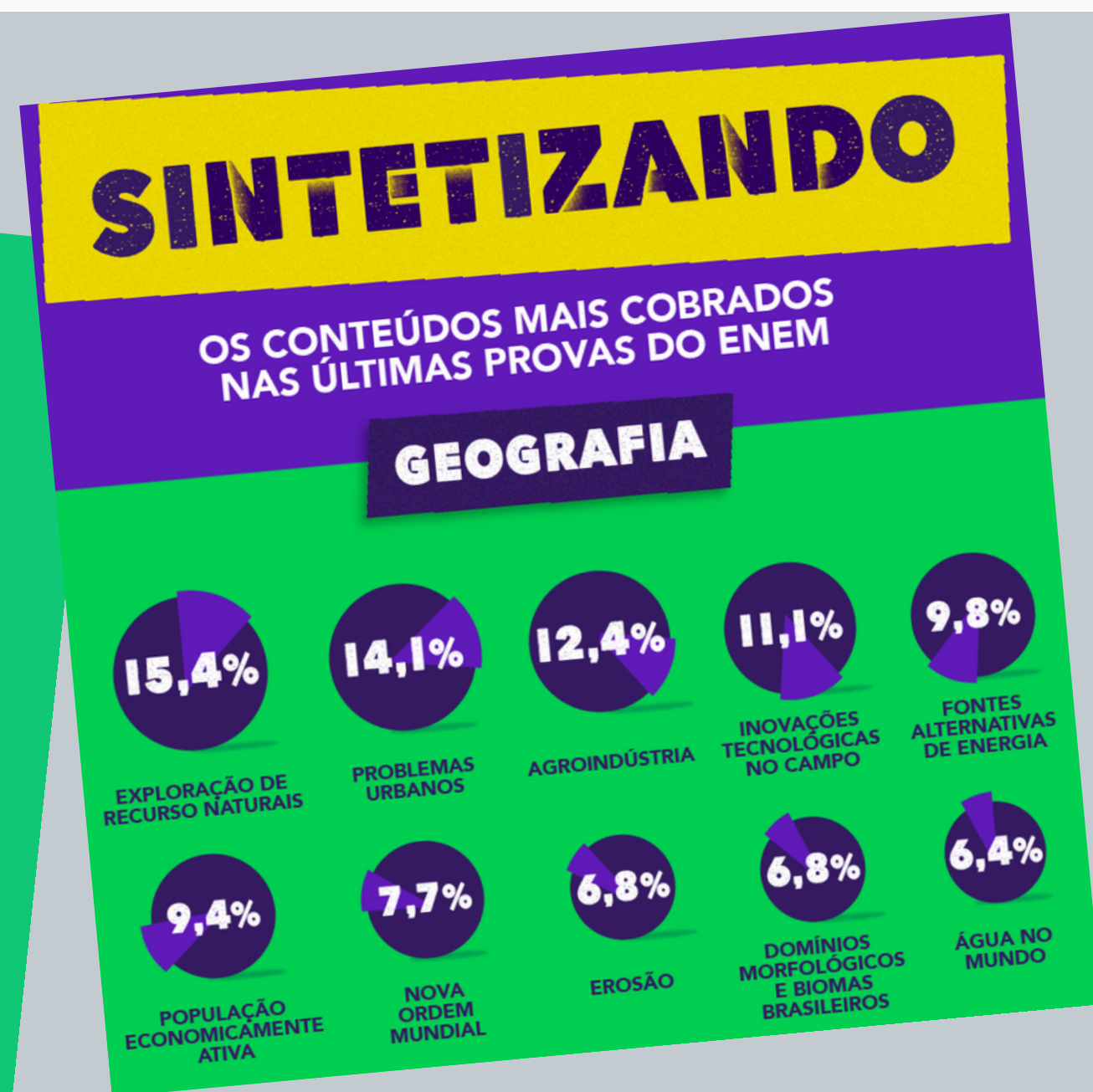
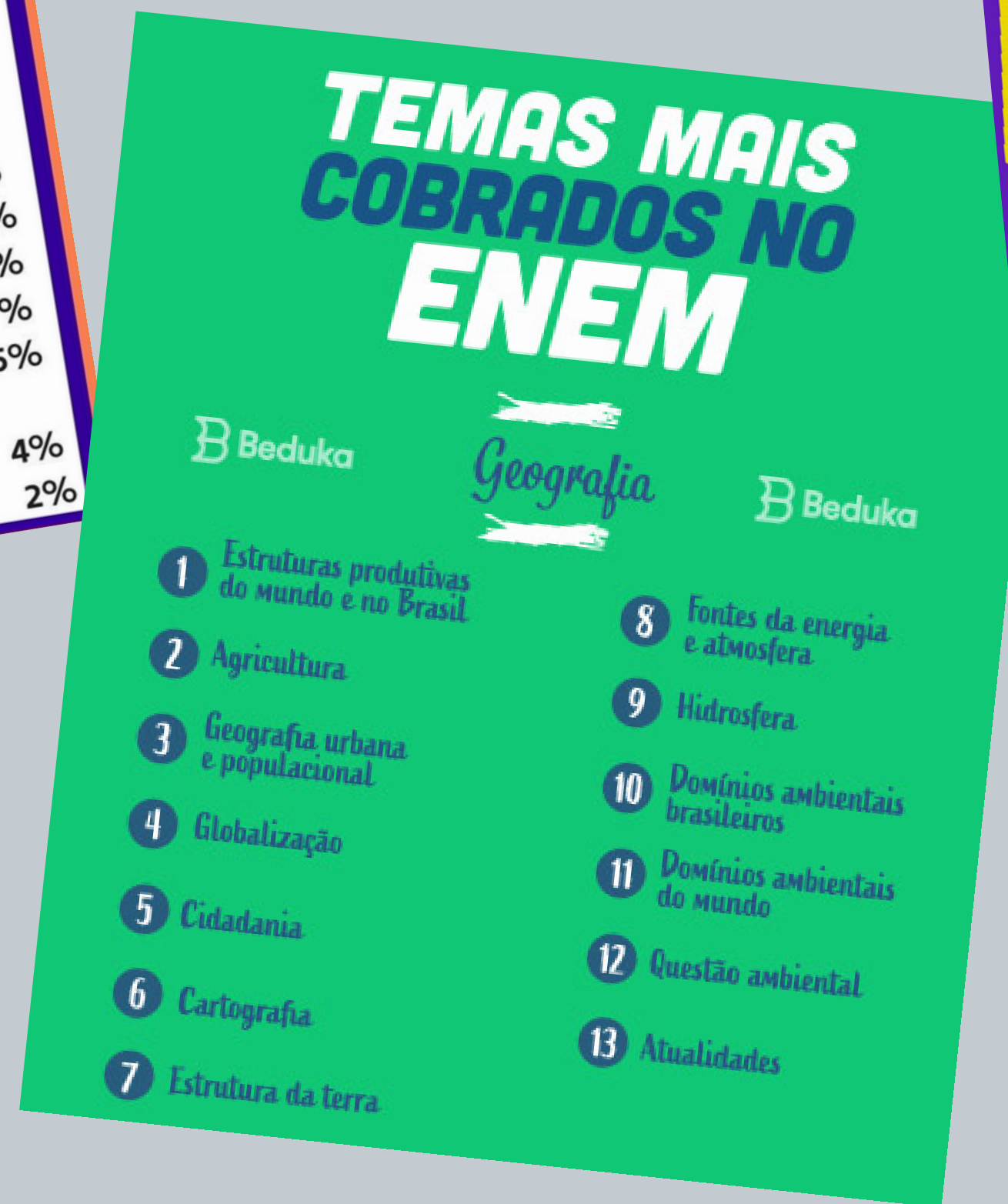
O que fazer?

**Dicas sobre a parte de Geografia
na Prova do Enem**

Prof. Adriel Costa
adrielcosta09@gmail.com




Os conteúdos que mais aparecem na Geografia do ENEM (?)



A stylized, textured globe in shades of grey and green, showing the outlines of continents, serves as a background for the left side of the image.

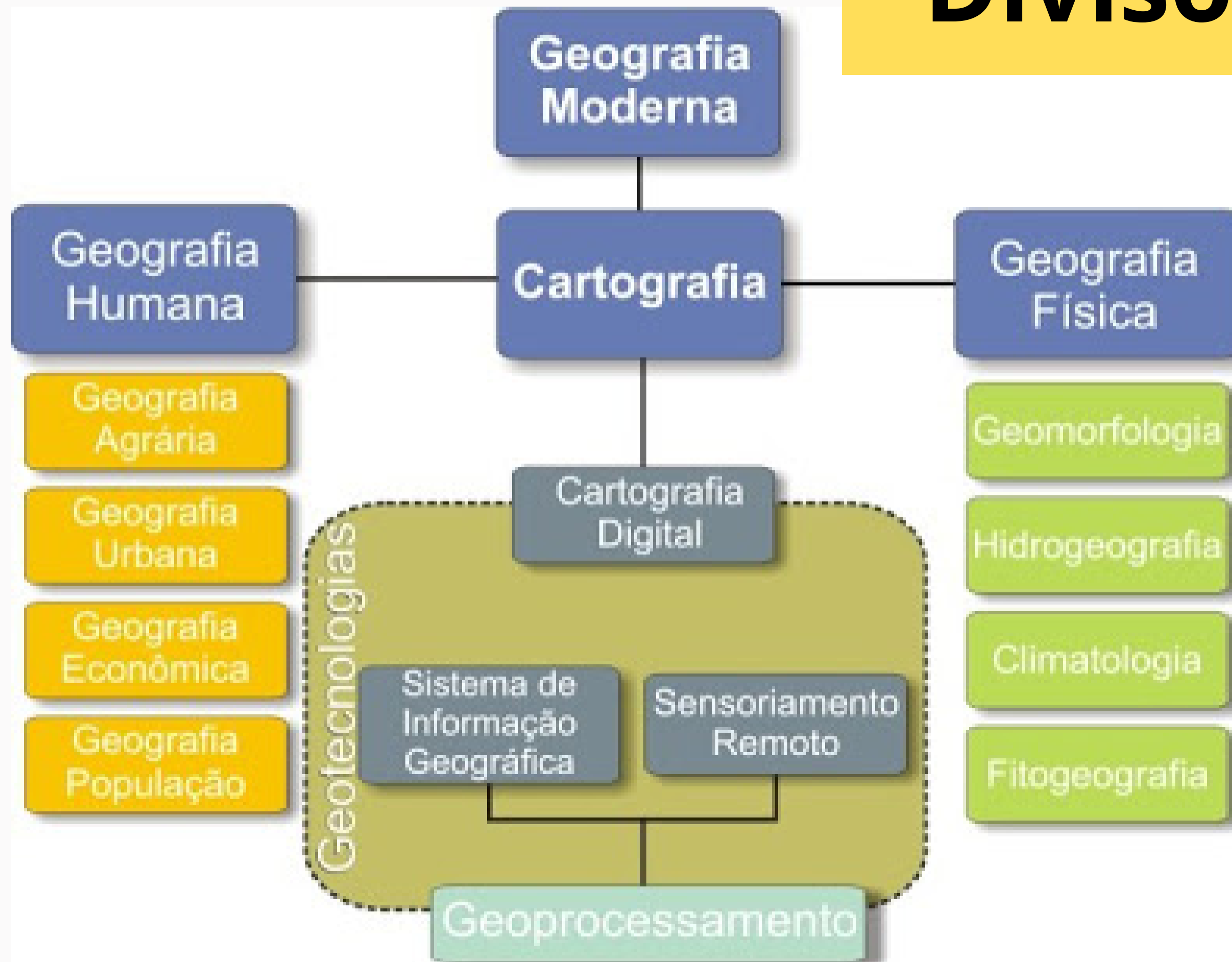
Divisão *da* **Geografia**

Large, vibrant, and irregular paint splashes in yellow, orange, green, blue, and pink are scattered across the right side of the image, creating a dynamic and artistic background.

Geografia do Brasil

Geografia Geral

Divisões das áreas



Então...

**Quais são os temas que
mais caem na prova do
ENEM a partir dessas
divisões da Geografia?**



GEOGRAFIA HUMANA (BRASIL)



População



Urbanização

Geografia Econômica (Brasil)



**Fontes de
Energia**



Indústria



Agropecuária



The diagram features a central yellow circle with a brushstroke texture. Inside this circle, the text 'Geografia Física' is written in a large, bold, black sans-serif font, with 'do Brasil' in a smaller, regular black font below it. Surrounding the central circle are four white ovals, each with a thick black border. These ovals are positioned at the top-left, top-right, bottom-left, and bottom-right relative to the center. Each oval contains a bold black text label: 'Espaço Geográfico' (top-left), 'Vegetação' (top-right), 'Hidrografia' (bottom-left), and 'Clima' (bottom-right). The entire diagram is set against a light gray background with a subtle marble pattern.

Geografia Física

do Brasil

**Espaço
Geográfico**

Vegetação

Hidrografia

Clima

Cartografia

Clima

Relevo

Geografia

Física

Geral

Geografia Econômica (Geral)

**Política
Econômica**

Indústria

Globalização

População

Urbanização

GEOGRAFIA HUMANA (GERAL)



Questão 46 enem2020enem2020enem2020

Embora inegáveis os benefícios que ambas as economias têm auferido do intercâmbio comercial, o Brasil tem reiterado seu objetivo de desenvolver com a China uma relação comercial menos assimétrica. Os números revelam com clareza a assimetria. As exportações brasileiras de produtos básicos, especialmente soja, minério de ferro e petróleo, compõem, dependendo do ano, algo entre 75% e 80% da pauta, ao passo que as importações brasileiras consistem, aproximadamente, em 95% de produtos industrializados chineses, que vão desde os mais variados bens de consumo até máquinas e equipamentos de alto valor.

LEÃO, V. C. Prefácio. In: CINTRA, M. A. M.; SILVA FILHO, E. B.; PINTO, E. C. (Org.). *China em transformação: dimensões econômicas e geopolíticas do desenvolvimento*. Rio de Janeiro: Ipea, 2015.

Uma ação estatal de longo prazo capaz de reduzir a assimetria na balança comercial brasileira, conforme exposto no texto, é o(a)

- ☐ A expansão do setor extrativista.
- ☐ B incremento da atividade agrícola.
- ☐ C diversificação da matriz energética.
- ☒ D fortalecimento da pesquisa científica.
- ☐ E monitoramento do fluxo alfandegário.

A Divisão Internacional do Trabalho significa que alguns países se especializam em ganhar e outros, em perder. Nossa comarca no mundo, que hoje chamamos América Latina, foi precoce: especializou-se em perder desde os remotos tempos em que os europeus do Renascimento se aventuraram pelos mares e lhe cravaram os dentes na garganta. Passaram-se os séculos e a América Latina aprimorou suas funções.

GALEANO, E. *As veias abertas da América Latina*. São Paulo: Paz e Terra, 1978.

Escrito na década de 1970, o texto considera a participação da América Latina na Divisão Internacional do Trabalho marcada pela

- A** produção inovadora de padrões de tecnologia.
- B** superação paulatina do caráter agroexportador.
- C** apropriação imperialista dos recursos territoriais.
- D** valorização econômica dos saberes tradicionais.
- E** dependência externa do suprimento de alimentos.



OBRIGADO

Obrigado



← adrielcosta09@gmail.com

"Quem ensina aprende ao ensinar. E quem aprende ensina ao aprender."

Paulo Freire___